

# Domeniul feudal și lumea satului medieval

# Țăranii

**Țăranii trăiau în mici sate, înconjurată de grădini închise. Dincolo de ele, erau câmpiile, apoi pășunile unde stăteau turmele și în sfârșit pădurea.**

**Un sat obișnuit avea o biserică, o moară de apă sau de vânt, o fântână, și o piața unde se jucau copiii și unde erau pedepsiți hoții mărunți.**

**Satele erau construite aproape de râuri, a căror apă era necesară atât pentru agricultură cat și pentru a pune în mișcare morile de apă.**

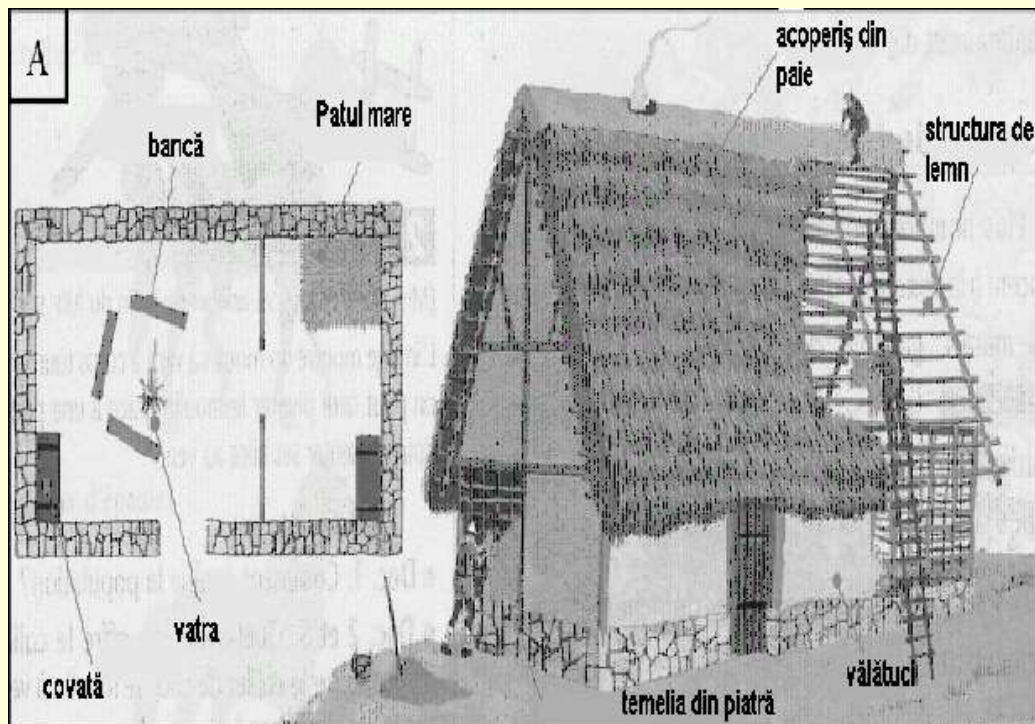
**Dacă condițiile meteorologice erau proaste, recolta devenea insuficientă. Și iată, deci, țăranii incapabili să facă față obligațiilor față de seniori și de a-și asigura propriile nevoi de hrană.**

**Cu toate aceste greutăți, ajutorul reciproc, numeroasele sărbători, șezătorile din lungile seri de iarnă, unde se adunau vecinii, îi ajutau să treacă peste duritatea vieții.**



# Locuința țăranului

Construite din lemn sau din vălătuci, casele din sate erau acoperite cu paie. Ele nu aveau, adesea, decât o singură încăpere slab luminată de mici ferestre, fără geamuri și închise seara cu obloane. Podeaua era din pământ bătut, mobilierul foarte simplu: lăzi, câteva bănci și un pat cu o saltea din paie.



# Obligațiile țăranilor

« În schimbul lotului primit, țăranul datorează seniorului: la jumătatea lui februarie două zile de muncă cu boii; în martie, două zile cu boii; în aprilie, două zile cu boii; la jumătatea lui mai, șapte zile cu boii pe un hectar de pământ și un cens de 15 dinari; în iunie, două zile cu boii; în iulie, trei zile cu secera sau cu furca; între august și septembrie, 15 zile cu secera pentru a recolta două hectare de pământ, unul cu grâu, altul cu ovăz; la sărbătoarea Sf.Remi(începutul lui octombrie), șapte zile cu boii; în octombrie, o zi cu mâinile și o altă zi cu boii; de La Sf.Martin(începutul lui noiembrie) până la jumătatea lui februarie, 15 zile cu mâinile.»

*După censier (document care enumeră obligațiile pentru lotul de pământ) domeniului Manise (Ardennes), sf.sec.al XI-lea.*



	<b>Zeciuiala</b> a zecea parte din recoltă
	<b>Dijma</b> - o parte din recoltă  Diverse taxe, variabile pentru trecerea podului, utilizarea morii, teascului, cuptorului. <b>Claca</b> - obligația de a munci pentru stăpân un număr de zile pe an <b>Cens</b> - obligație în bani
	<b>Semințe</b> 20 % din recoltă
	Obligații față de biserică
	Obligații față de seniori

# Transformări în agricultură

Începând cu secolul al XI-lea, satele cunosc schimbări profunde:

- Morile de apă și noile mori de vânt permit măcinatul grânelor mai repede decât cu vechile râșnițe

## Manuale

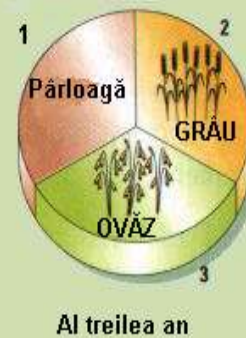
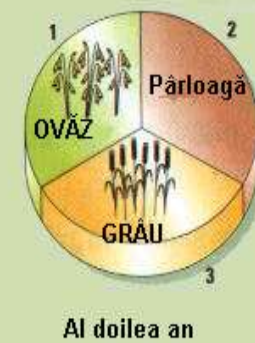
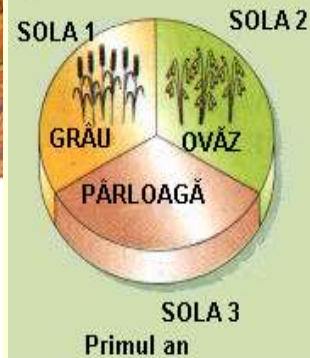
- Uneltele, altădată din lemn, acum din metal, devin mai eficiente.
- Plugul dă o mai bună arătură decât vechiul aratru din lemn sau sapa.
- Cu noul ham pe piept, caii fac munca mai repede decât cu vechiul ham pe gât care îi strângula.
- Suprafața cultivabilă este divizată în trei părți: un an din trei o parte din pământ este lăsată pârloagă; o altă parte este cultivată cu grâu de toamnă, semănat în octombrie; pe ultima parte se cultivau cereale semănate primăvara, ca ovăzul și orzul. Această tehnică numită asolament trienal, încearcă să compenseze lipsa de îngrășămințe, căci animalele prea rare furnizau puțin gunoi.
- Mai numeroși și mai bine utilizați țărani se lansează în cucerirea de noi suprafețe agricole. Pădurile, altădată numeroase în Europa, încep să cedeze teren suprafețelor cultivate.

*Zgomotul securilor s-a oprit. În pădure liniștea se instalează înaintea zgomotului produs de căderea copacilor. Apoi exclamațiile oamenilor care văd luminișul crescând. Aici se va construi noul sat, o dată ce arborii vor fi ridicați iar crengile vor fi arse. Ce muncă epuizantă de a face doar cu forța brațelor să restrângi suprafețele împădurite ! Dar oamenii nu se plâng. Ei știu că vor avea avantaje în a trăi aici: pământul va fi mai fertil și seniorul, pentru a atrage mai mulți coloniști, a propus contracte mai avantajoase cu mai multe libertăți. Iată de ce sunt atrași curajoșii!*

Țăranii defrișează tăind arborii Moara macină grâul pentru a obține făina Calul este înhamat cu un nou tip de ham Oamenii termină defrișatul și adună ramurile




Grapa aerisește pământul: ea este trasă de cal. Plugul servește la arat. Brăzdarul, din fier, răstoarnă pământul. Lama plugului, din fier, taie pământul.



# Alte progrese


Jug pe greabăn





Ham pe gât



Ham pe piept sec. XIII



Jug frontal sec. XIII



Moara de vânt



Observă imaginea și răspunde la întrebări:

- 1.Cum se numește ansamblul terenurilor din imagine? Cum se explică acest termen.
- 2.care este elementul central al domeniului? Pentru ce?
- 3.Care sunt cele două categorii de pământuri pe care le poți distinge?
- 4.Descrie imaginea căutând să explici și semnificația diferitelor elemente întâlnite. Pe baza descrierii caută să explici legăturile dintre țărani și seniori.
- 5.Subliniază trei mărturii ale puterii de care dispune seniorul asupra țăranilor în domeniul agriculturii.
- 6.Pentru ce se poate spune că seniorul controlează în mod egal deplasările pe aceste pământuri?(un exemplu)
- 7.Prin ce este subliniată puterea militară a seniorului?
- 8.Prin ce este reprezentată puterea judecătorească a seniorului?

