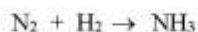
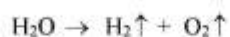
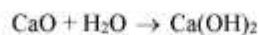
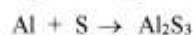
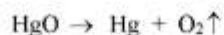
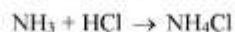


FIȘĂ DE LUCRU

REAȚII DE COMBINARE. REAȚII DE DESCOMPUNERE

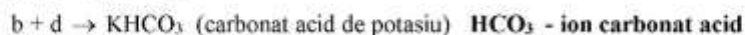
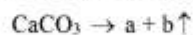
1. Egalează ecuațiile reacțiilor chimice de mai jos și precizează tipul fiecărei reacții:



2. Completează ecuațiile reacțiilor următoare, stabilește coeficienții și precizează tipul fiecărei reacții :



3. Identifică substanțele a, b, c, d din schema de reacții de mai jos, stabilește coeficienții și precizează tipul fiecărei reacții:



4. În schema de mai jos apar ecuațiile unor reacții de combinare. Identifică substanțele a, b, c, d, e și stabilește coeficienții:

